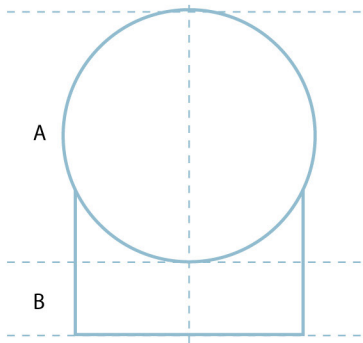
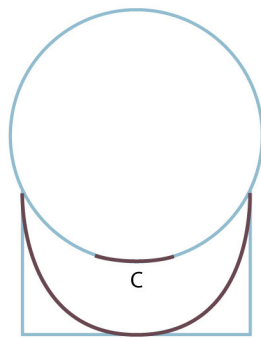


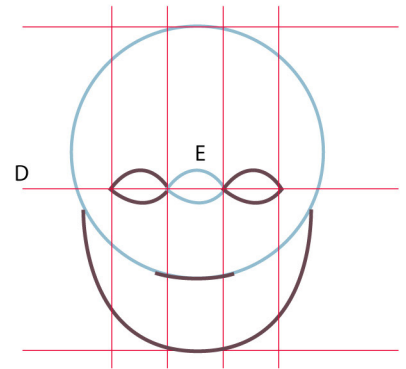
# Apprends à dessiner un VISAGE



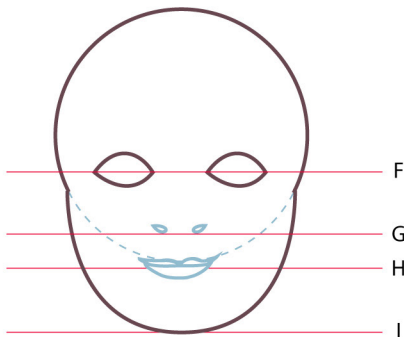
La hauteur du cercle A est égale à 3,5 fois celle de la hauteur B (par exemple, si B fait 5cm de haut alors la hauteur de A sera de 17,5cm)



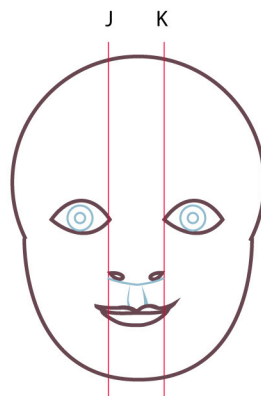
La bouche se trouve à la base du cercle (C)



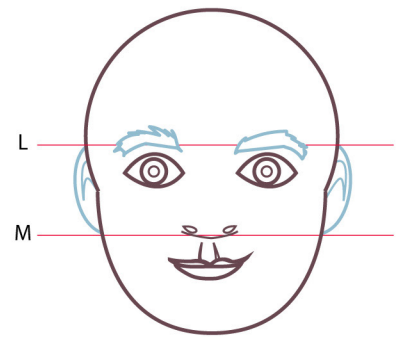
La ligne horizontale (D) qui passe par l'axe des yeux partage la tête en 2 parties égales. La distance entre les deux yeux équivaut à la largeur d'un oeil (E)



La distance de l'axe des yeux à la base du nez (de F à G) est égale à celle entre la bouche et la pointe du menton (de H à I)



La largeur du nez est égale à l'espace entre les deux yeux (entre J et K). La bouche est un peu plus large



La hauteur des oreilles est égale à l'espace entre les sourcils et le bas du nez (entre L et M)



Pour les cheveux, on dessine d'abord le volume ...



... puis on dessine quelques mèches et enfin on place les ombres et les lumières.

